

Time: 10 Minutes Paper Math 3 (T1) Total Marks: 10




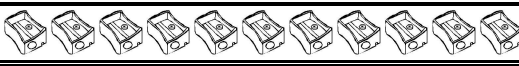

1st Month, 1st Week, 4th Day Syllabus: Unit 1: Exercise No.2, Q. No.1,2

☆ Solve all questions.

تمام سوالات حل کریں۔

Q.No.1: Write the number of the following objects and identify whether they are even or odd numbers. (2.5)

دی گئی چیزوں کو گن کر عدد لکھیں اور بتائیں کہ وہ جفت ہے یا طاق۔

Q.No.2: Identify even and odd from the given numbers and write them separately. (5)

جفت اور طاق اعداد کی پہچان کریں اور انہیں الگ الگ لکھیں۔

8, 7, 10, 23, 14, 15, 30, 35, 42, 51, 55, 65, 68, 72, 79, 82, 83, 91, 96, 99	
Even جفت	
Odd طاق	

Q.No.3: Define odd numbers.

(2.5)

طاق اعداد کی تعریف کریں۔

Time: 10 Minutes Paper Math 3 (T1) Total Marks: 10




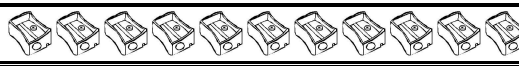

1st Month, 1st Week, 4th Day Syllabus: Unit 1: Exercise No.2, Q. No.1,2

☆ Solve all questions.

تمام سوالات حل کریں۔

Q.No.1: Write the number of the following objects and identify whether they are even or odd numbers. (2.5)

دی گئی چیزوں کو گن کر عدد لکھیں اور بتائیں کہ وہ جفت ہے یا طاق۔

Q.No.2: Identify even and odd from the given numbers and write them separately. (5)

جفت اور طاق اعداد کی پہچان کریں اور انہیں الگ الگ لکھیں۔

8, 7, 10, 23, 14, 15, 30, 35, 42, 51, 55, 65, 68, 72, 79, 82, 83, 91, 96, 99	
Even جفت	
Odd طاق	

Q.No.3: Define odd numbers.

(2.5)

طاق اعداد کی تعریف کریں۔
